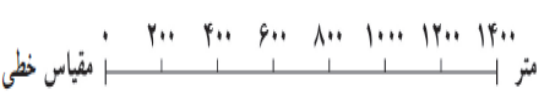










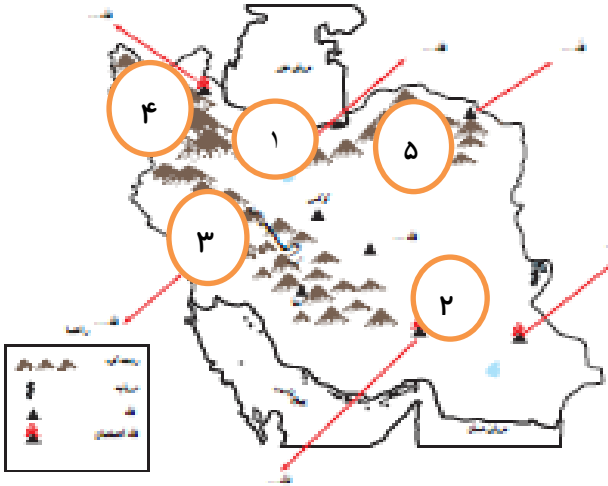



ردیف	بارم	سوال
1	۰/۵	برای تهیه نقشه های جغرافیایی از عکس های معمولی استفاده می کنند . ص 😊 غ 😊
2	۰/۵	توزیع فعالیتی است که بین تولید کننده و مصرف کننده رابطه برقرار می کند . ص 😊 غ 😊
3	0/5	نواحی مرتفع و بلند ایران در شمال شامل ..... است . الف : کوه های آذر بایجان 😊 ب : رشته کوه البرز 😊 ج : کوه های خراسان 😊 د : هر سه مورد 😊
4	۰/۵	از جمله مقرراتی است که گروه های اجتماعی به صورت توافق و یا عادت و رسم از آن پیروی می کنند . الف : ایستادن در صف اتوبوس 😊 ب : ممنوعیت عبور از چراغ قرمز 😊 ج : وارد شدن به مسجد بدون کفش 😊 د : صلاحیت و مدرک پزشکی برای درمان 😊
5	۰/۵	اگر خود را به جای فردی که دچار حادثه شده بگذاریم و احساس و شرایط او را درک کنیم ، یعنی با او ..... کرده ایم .
6	۰/۵	منظور از ..... چیز هایی است که یک انسان به دلیل مقام انسانی اش شایستگی داشتن آنها را دارد .
7	۰/۵	به منطقه بزرگی که در آن مجموعه ای از گیاهان و جانوران خاص زندگی می کنند ..... می گویند .
8	۰/۵	اگر افراد بخواهند ساختمانی برای محل سکونت یا کسب و کار خود بسازند باید از شهر داری ..... بگیرند .
9	۰/۵	خداوند در سوره اسرا آیه ۲۷ قران کریم می فرماید : همانا مبذرین ( ریخت و پاش کنندگان ) از ..... هستند .
۱۰	۰/۵	بر روی نقشه گردشگری شهر تبریز فاصله ی میدان بسیج تا میدان راه آهن 5 سانتی متر است . با توجه به مقیاس خطی زیر فاصله واقعی مکان ها روی زمین چند متر و چند کیلومتر است ؟  متر   ۰ ۲۰۰ ۴۰۰ ۶۰۰ ۸۰۰ ۱۰۰۰ ۱۲۰۰ ۱۴۰۰
11	۰/۵	جمله ( همه افراد در برابر قانون مساوی اند ) را با ذکر مثال توضیح دهید. 
12	۱	بیمه چیست؟

<p>۰/۵</p> <p><u>صفحه دوم</u></p> 	<p>برای هر مورد از ویژگی های انسانی و ویژگیهای طبیعی شهر خود یک سوال جغرافیایی طرح کنید ؟</p> <p>شهر من تبریز - ویژگی طبیعی</p> <p>-ویژگی انسانی</p>	<p>13</p>									
<p>۱</p>	<p>دامنه های شمالی و جنوبی البرز را با یکدیگر مقایسه کنید :</p> <table border="1" data-bbox="264 583 1357 751"> <thead> <tr> <th>بارش</th> <th>پوشش گیاهی</th> <th></th> </tr> </thead> <tbody> <tr> <td></td> <td></td> <td>دامنه های شمالی البرز</td> </tr> <tr> <td></td> <td></td> <td>دامنه های جنوبی البرز</td> </tr> </tbody> </table>	بارش	پوشش گیاهی				دامنه های شمالی البرز			دامنه های جنوبی البرز	<p>۱۴</p>
بارش	پوشش گیاهی										
		دامنه های شمالی البرز									
		دامنه های جنوبی البرز									
<p>۱</p> 	<p>چه ارتباطی میان کلمات و جملات زیر وجود دارد ؟</p> <p>( حقوق متقابل - بیمه - همدلی و همیاری - حقوق طبیعی )</p> <p>-همانطور که ما حق داریم ، پدر و مادر و معلم و همسایگان و دوستان و... نیز حقی بر ما دارند .....</p> <p>-خداوند در قرآن کریم می فرماید : هر کس جان یک نفر را نجات دهد مانند این است که جان همه مردم را نجات داده است .....</p> <p>- برای جبران زیان های مالی و جانی به وجود آمده است . .....</p> <p>- انسان ها حق دارند آزاد باشند ، یعنی برده و بنده انسان های دیگر نباشند . زیرا خداوند آنها را آزاد آفریده است .....</p>	<p>۱۵</p>									
<p>۱</p> 	<p>برای هر یک از مجموعه کلمات زیر یک سوال طراحی کنید.</p> <p>( منابع طبیعی - سرمایه - نیروی انسانی )</p> <p>(کشاورزی - صنعت - خدمات )</p>	<p>16</p>									
<p>۱</p> 	<p>دو مورد از حقوق و مسئولیت های خود در خانه را بنوبسید :</p> <p>۱- من حق دارم</p> <p>۱- من مسئول هستم</p> <p>۲- من حق دارم</p> <p>۲- من مسئول هستم</p>	<p>۱۷</p>									

<p>۱</p> <p><u>صفحه سوم</u></p> 	<p>18</p> <p>به طور کلی قانون و مقررات به چند دلیل بوجود آمده است ؟</p>
<p>۱</p>	<p>19</p> <p>با توجه به تصاویر پاسخ دهید ، شما در برابر چه چیز و چه کسانی مسئول هستید ؟</p> <div style="display: flex; justify-content: space-around; align-items: flex-end;"> <div style="text-align: center;">  <p>.....</p> </div> <div style="text-align: center;">  <p>.....</p> </div> <div style="text-align: center;">  <p>.....</p> </div> <div style="text-align: center;">  <p>.....</p> </div> </div>
<p>۱</p>	<p>۲۰</p> <p>با توجه به نقشه طبیعی ایران پاسخ دهید : (یک مورد اضافی است)</p> <div style="display: flex; justify-content: space-between; align-items: flex-start;"> <div style="border: 1px solid orange; padding: 10px; width: 40%;"> <p>۱- رشته کوه .....          ۲- دشت .....          ۳- جلگه .....          ۴- کوه‌های .....          ۵- قله .....</p> </div> <div style="text-align: center;">  </div> </div>
<p>۱</p> 	<p>۲۱</p> <p>در مورد چهار ناحیه آب و هوایی ایران به پرسش‌های زیر پاسخ دهید :</p> <p>-مرطوب‌ترین ناحیه آب و هوایی ایران است .....</p> <p>-در برخی ارتفاعات این ناحیه در هنگام زمستان برف زیادی می‌بارد و یخبندان‌های شدید به وجود می‌آید .....</p> <p>-در این ناحیه اختلاف دمای شب و روز زیاد است و تابستان‌ها بسیار گرم است .....</p> <p>-این ناحیه از جلگه خوزستان تا بندر چابهار کشیده شده است .....</p>

۱	<p> <u>صفحه چهارم</u></p> <p>قوه مقننه از چند بخش تشکیل شده است؟ نام ببرید .  ..... و.....  با توجه به پاسخ خود بیان کنید هر یک از موارد زیر از وظایف کدامیک از این دو بخش است؟  -تطبیق قوانین مجلس با قانون اساسی و احکام اسلامی .....  -تهیه و تصویب قوانین عادی .....</p>	۲۲
۱	<p></p> <p>از ۳ سوال زیر به ۲ سوال به اختیار پاسخ دهید؟  1- چرا زیستگاه ها تخریب می شوند؟ دو مورد  2- در مناطق حفاظت شده چه مقررات خاصی برای حفظ گیاهان و جانوران تعیین شده است؟ دو مورد  3- شما برای حفاظت از محیط زیست چه کار هایی انجام می دهید؟ دو مورد</p>	۲۳
۱/۵	<p>در مرداد ماه ۱۳۹۱ زلزله ای در منطقه ارسباران آذر بایجان شرقی اتفاق افتاد . سازمان هلال احمر برای زلزله زدگان این منطقه چه اقداماتی انجام داد؟ دو مورد</p> <p>  جمعیت هلال احمر</p> <p>- شما و خانواده تان از همان محل زندگی خود چگونه به زلزله زدگان این منطقه کمک کردید؟ یک مورد</p>	24
۱/۵	<p>این شعر مطالبی در مورد حقوق مصرف کننده را به شما یاد آوری می کند . بخوانید و به پرسش های زیر پاسخ دهید .  <b>اون تصویب قوانین . برچسب کالا . علامت استاندارد</b>  <b>مصرف کننده را کرد از این حقوق شاد</b></p> <p>۱- به منظور حفظ حقوق مصرف کننده چه قوانین و مقرراتی به وجود آمده است؟ دو مورد  2- چه اطلاعاتی روی برچسب کالا درج شده است؟ دو مورد  3- این علامت ها روی برچسب بسته بندی کالا نشانه چیست؟   .....  .....</p>	25
	<p>نمره به عدد .....نمره به حروف .....نام و نام خانوادگی دبیر .....امضا</p>	